



MINISTERUL
EDUCAȚIEI



SOCIETATEA
DE GEOGRAFIE
DIN ROMÂNIA

EDITURA CD PRESS
www.cdpress.ro



**CONCURSUL ȘCOLAR NAȚIONAL DE GEOGRAFIE „TERRA”
ETAPA JUDEȚEANĂ/A SECTOARELOR MUNICIPIULUI BUCUREȘTI**

Ediția a XI-a, 24 martie 2024

CLASA a VII-a

Eu sunt Terra și ți-l prezint pe prietenul meu, Rokid. Ne bucurăm că ai venit la acest concurs. Tu ești un mare geograf și, astăzi, ai ocazia să demonstrezi cât de bine mă cunoști. Ai la dispoziție 90 de minute să rezolvi testul pe care ți l-am pregătit. Răspunde corect la toate cerințele și vei câștiga 90 de puncte. Împreună cu cele 10 puncte pe care ți le oferim în dar, drept mulțumire că ai venit aici, vei avea în total 100 de puncte.

Succes!



Subiectul I (20 puncte)

Scrieți, pe foaia de concurs, litera corespunzătoare variantei corecte de răspuns, pentru fiecare dintre afirmațiile de mai jos:

- Punctul extrem sudic al continentului Asia (inclusiv partea insulară) este situat pe teritoriul statului:
a. Arabia Saudită b. Filipine c. India d. Indonezia
- Cea mai mare insulă a Africii, numită de ecologiști „*al optulea continent al Terrei*”, se numește:
a. Honshu b. Java c. Madagascar d. Noua Guinee
- Statul în care iudaismul este predominant, se numește:
a. India b. Iran c. Israel d. Turcia
- Un lac african, situat pe Ecuator, este:
a. Malawi b. Tanganyika c. Turkana d. Victoria
- Specifice țărmurilor joase și mlăștinoase, afectate de marea, din India, sunt formațiunile vegetale numite:
a. mangrove b. maquis c. savane d. stepe
- Sunt situați în extremitatea nord-vestică a Africii Munții:
a. Ahaggar b. Atlas c. Camerun d. Capului
- Regiunea care include Peninsula Arabia și spațiul din vecinătatea estică a Golfului Persic, se numește:
a. Extremul Orient b. Orientul Apropiat c. Orientul Îndepărtat d. Orientul Mijlociu
- Are o direcție generală de curgere, de la sud la nord, fluviul:
a. Congo b. Niger c. Nil d. Orange
- Platurile stâncoase acoperite cu pietre colțuroase din Sahara, se numesc:
a. erg-uri b. hamade c. șoturi d. ued-uri
- Face parte din grupul statelor numit „*cei patru tigri sau dragoni asiatici*”, statul:
a. China b. India c. Myanmar d. Singapore

20 puncte

Subiectul al II-lea (10 puncte)

Imaginile de mai jos prezintă aspecte ale unor unități de relief din Africa.



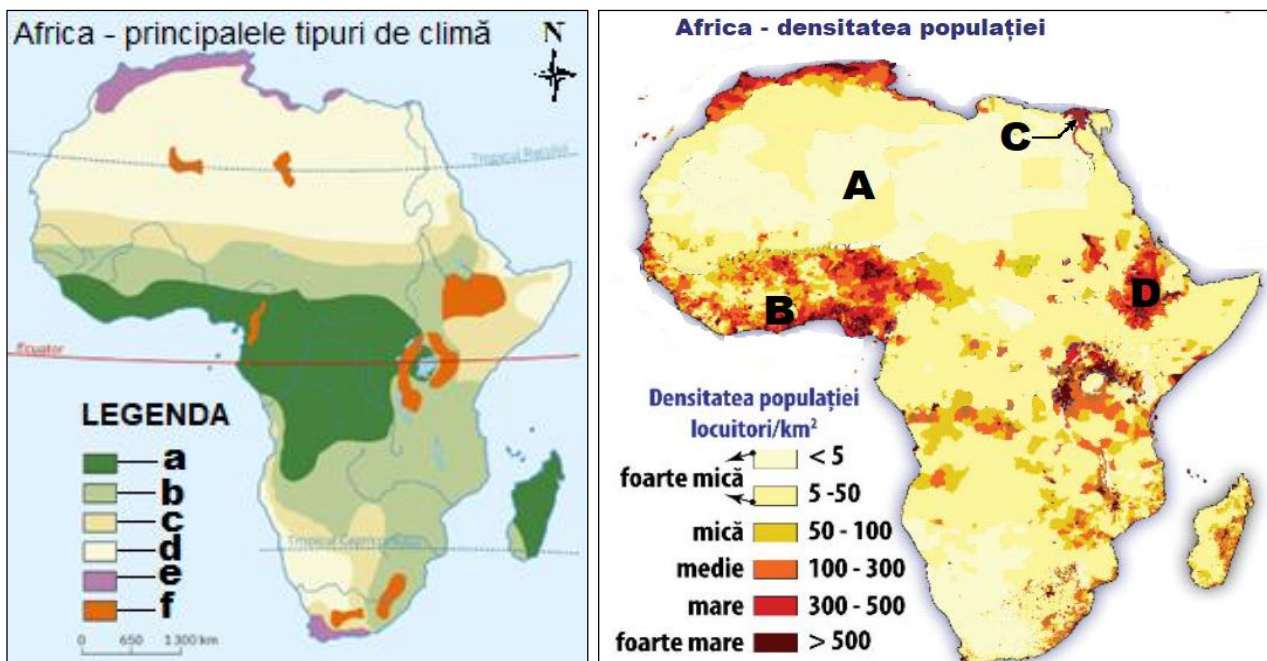
Precizați:

1. denumirea munților, dintre cei prezentați în imagini, situați în extremitatea sudică a Africii;
2. denumirea munților, dintre cei prezentați în imagini, situați în extremitatea estică a Africii;
3. un exemplu de munți, dintre cei prezentați în imagini, formați prin încrețirea scoarței terestre;
4. denumirile munților, dintre cei prezentați în imagini, formați prin erupții vulcanice.

10 puncte

Subiectul al III-lea (20 puncte)

În legenda hărții *Africa - principalele tipuri de climă*, de mai jos, sunt marcate cu litere de la **a** la **f** tipuri de climă, iar pe harta *Africa - densitatea populației*, sunt marcate cu literele **A**, **B**, **C** și **D** regiuni cu diferite densități ale populației.



A. Pentru fiecare dintre afirmațiile de mai jos, **scrieți**, pe foaia de concurs, litera **A** (*adevărat*) dacă apreciați că afirmația este adevărată sau, litera **F** (*fals*), dacă apreciați că afirmația este falsă, după modelul **7 – F** sau **7 – A**.

1. Clima subecuatorială este marcată, în legenda hărții, cu litera **a**.
2. Cu litera **d**, este marcată în legenda hărții, clima tropical - aridă.
3. Clima mediteraneeană, este specifică extremităților nordică și sudică ale Africii și este marcată cu litera **e**.

- În zona Deșertului Sahara, marcată pe harta *Africa – densitatea populației*, cu litera **A**, densitatea populației este, în cea mai mare parte, cuprinsă între 100-300 loc/km².
- Zona Podișului Etiopiei este o zonă cu densitatea populației mare și este marcată pe hartă cu litera **D**.
- Tipul de climă marcat în legendă cu litera **c** este determinat de prezența Tropicului Racului, din care cauză densitatea populației, în regiunile respective este mare.

12 puncte

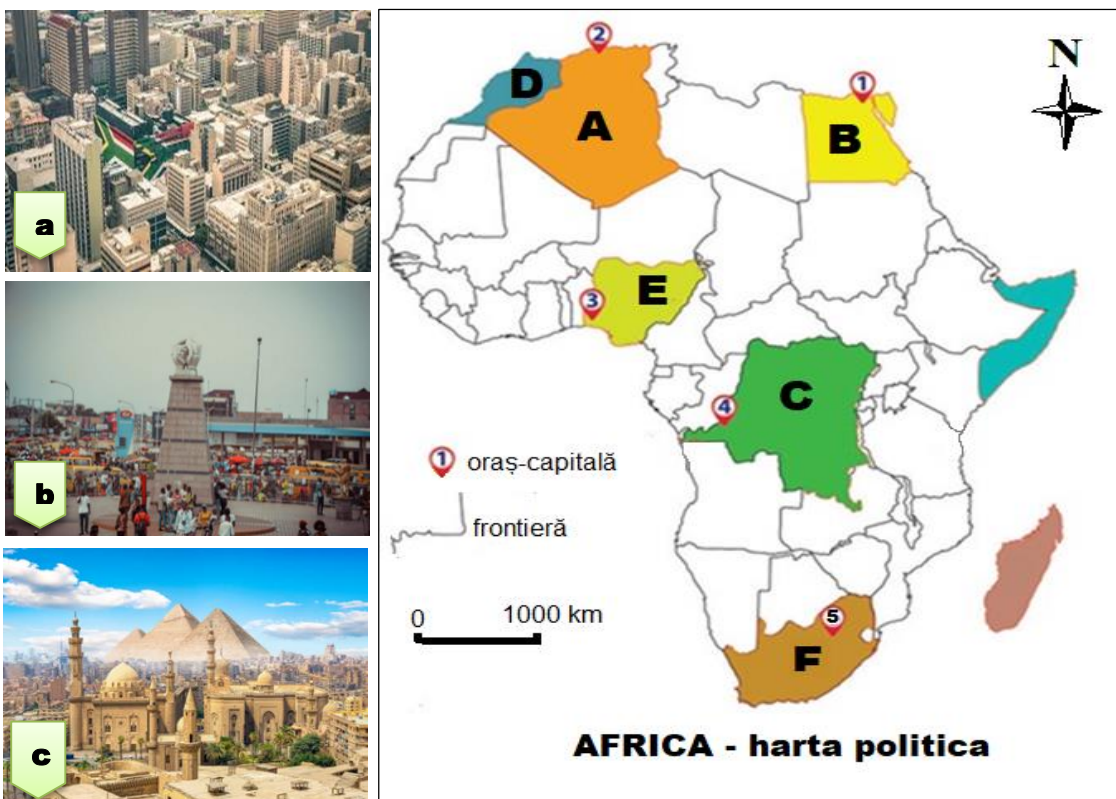
B. Analizați, cu atenție hărțile de mai sus (*Africa - principalele tipuri de climă*, *Africa – densitatea populației*). **Menționați**:

- tipul de climă în care este localizată, fiecare dintre regiunile marcate, pe harta *Africa – densitatea populației*, cu literele **A** și **B**;
- câte un factor geografic (altul decât factorii climatici) care a determinat valori mai mari ale densității populației, pentru fiecare dintre regiunile marcate pe harta *Africa – densitatea populației*, cu literele **B** și **C**.

8 puncte

Subiectul al IV-lea (14 puncte)

Pe harta de mai jos sunt marcate cu litere de la **A** la **F** state africane, cu numere de la **1** la **5** orașe – capitală, iar imaginile marcate cu literele **a**, **b** și **c** prezintă aspecte ale unor orașe – capitală.



A. Precizați:

- forma de guvernământ specifică statului marcat, pe hartă, cu litera **D**;
- numele statului căruia îi aparține orașul – capitală cu funcție portuară marcat, pe hartă, cu numărul **2**;
- numele statului, dintre cele marcate pe hartă, pe teritoriul căruia se află grupul etnic al pigmeilor, precum și litera care îl marchează;


8 puncte

B. Știind că imaginile marcate cu literele **a, **b** și **c** prezintă aspecte din orașele – capitală Johannesburg (**a**), Kinshasa (**b**) și Cairo (**c**), **scrieți**, pe foaia de concurs, asocierile corecte dintre literele imaginilor reprezentative pentru cele trei orașe-capitală, numerele ce marchează, pe hartă, orașele respective și literele statelor corespunzătoare, după modelul **d-6-G**.**

6 puncte

Subiectul al V-lea (26 puncte)

Imaginile de mai jos prezintă două reprezentări cartografice ale continentelor Africa și Asia, marcate cu literele **A** și **B**, respectiv, persoane aparținând unor grupuri etnice, marcate cu literele **a**, **b**, **c** și **d**.



A. Analizați, comparativ, reprezentările cartografice ale continentelor Africa și Asia marcate cu literele **A** și **B**. **Precizați**:

1. două deosebiri, între cele două continente, privind modul de distribuire a treptelor majore de relief;
2. un tip genetic de lac comun celor două continente și câte un exemplu de lac de tipul respectiv, pentru fiecare continent;
3. câte un exemplu de deșert tropical, pentru fiecare dintre cele două continente;
4. denumirea unei mări care mărginește ambele continente;
5. un tip de climă specific doar continentului reprezentat în imaginea marcată cu litera **B**.

18 puncte

B. Scrieți, pe foaia de **concurs** corespondența corectă dintre literele reprezentărilor cartografice ale Africii și Asiei și literele ce marchează imaginile persoanelor ce aparțin unor grupuri etnice din continentele respective, după modelul **D – e**.

8 puncte

