



MINISTERUL
EDUCAȚIEI



SOCIETATEA
DE GEOGRAFIE
DIN ROMÂNIA

EDITURA CD PRESS
www.cdpress.ro



CONCURSUL ȘCOLAR NAȚIONAL DE GEOGRAFIE „TERRA” ETAPA JUDEȚEANĂ/A SECTOARELOR MUNICIPIULUI BUCUREȘTI

Ediția a XI-a, 24 martie 2024

VII. OSZTÁLY

Én Terra vagyok és bemutatom barátomat, Rokid-ot. Örülünk, hogy eljöttél erre a versenyre! Te egy igazi földrajzos vagy és ma megmutathatod, milyen jól ismersz engem. Összesen **90 perc** áll rendelkezésedre, hogy megoldd a tesztet, amit számodra készítettem. Válaszolj helyesen mindegyik kérdésre és ezzel **90 pontot** fogsz szerezni. Azzal a **10 ponttal**, amellyel megjutalmazunk azért, mert ide eljöttél, **100 pontot** lesz.

Sok sikert!



I. Tétel (20 pont)

Írjátok a versenylapra a helyes válasz betűjelét az alábbi kijelentésekre vonatkozóan:

- Ennek az államnak a területén található az ázsiai kontinens legdélebbi pontja (beleértve a szigeti részt is):
 - Szaúd-Arábia
 - Fülöp-szigetek
 - India
 - Indonézia
- Afrika legnagyobb szigete, amelyet a környezetvédők a "Föld nyolcadik kontinensének" neveznek:
 - Honshu
 - Jáva
 - Madagaszkár
 - Új-Guinea
- Az állam neve, amelyben a judaizmus uralkodik:
 - India
 - Irán
 - Izrael
 - Törökország
- Egy afrikai tó, amely az Egyenlítőn található:
 - Malawi
 - Tanganyika
 - Turkana
 - Viktória
- India alacsonyan fekvő, mocsaras, árapályos partjaira jellemzőek az alábbi növényzeti képződmények:
 - mangrove
 - maquis
 - szavannák
 - sztyepp
- Afrika észak-nyugati csücskében találhatóak az alábbi hegységek:
 - Ahaggar
 - Atlasz
 - Kamerun
 - Fok
- A régió neve, amely magában foglalja az Arab-félszigetet és a Perzsa-öböl keleti szomszédságában lévő területet:
 - Távol-Kelet
 - Közel-Kelet
 - Távol-Kelet
 - Közép-Kelet
- Többnyire dél felől észak felé folyik az alábbi folyam:
 - Kongó
 - Niger
 - Nílus
 - Orange
- Így nevezik a Szaharában található fennsíkakat, amelyeket éles szélű kövek borítanak:
 - erg
 - hammada
 - sott
 - vádi
- A "négy ázsiai tigris vagy sárkány" államcsoportnak része az alábbi ország:
 - Kína
 - India
 - Myanmar
 - Szingapúr

20 pont

II. Tétel (10 pont)

Az alábbi képek Afrika néhány domborzati egységét ábrázolják.



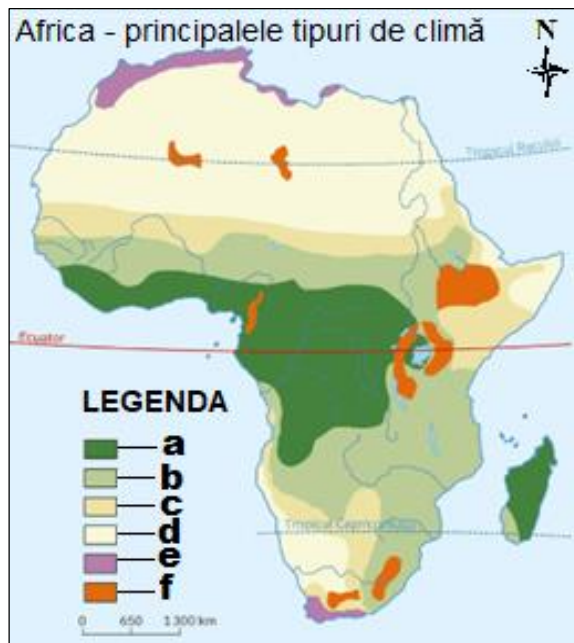
Írjátok le:

1. A képeken látható hegyek közül Afrika déli csücskében található hegyek nevét;
2. A képeken látható hegyek közül Afrika legkeletibb szélén található hegyek nevét;
3. Egy példát, a képeken látható hegyek közül, amely a földkéreg gyűrődése során alakult ki;
4. A vulkánkitörések során kialakult hegyek neveit, a képeken látható hegyek közül.

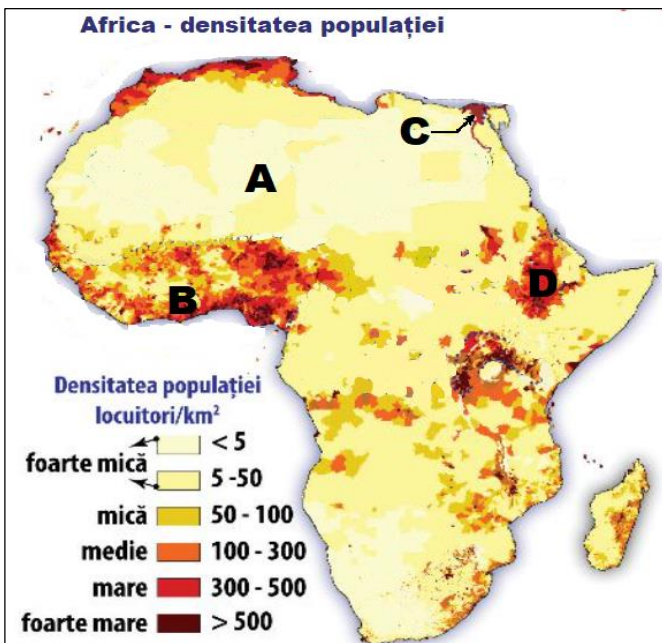
10 pont

III. Tétel (20 pont)

Az alábbi, *Afrika - fő éghajlati típusok* térképen **a-tól f-ig** terjedő betűk jelölik az éghajlati típusokat és a *Afrika - népsűrűsége* térképen **A, B, C és D** betűk jelölik a különböző népsűrűségű régiókat.



Afrika - fontosabb éghajlati típusok
LEGENDA - JELMAGYARÁZAT



Afrika - népsűrűség
Densitatea populației - népsűrűség lakos/km²

A. Az alábbi állítások mindegyikéhez **írd** az **I** betűt (*igaz*), ha úgy gondolod, hogy az állítás igaz, vagy a **H** betűt (*hamis*), ha úgy gondolod, hogy az állítás hamis, a **7 - I vagy a 7 - H** minta alapján.

1. A szubekvatoriális éghajlatot a térkép jelmagyarázatán az **a** betű jelöli.
2. A **d** betű jelöli, a térkép jelmagyarázatán, a trópusi száraz éghajlatot.
3. A mediterrán éghajlat Afrika északi és déli szélső részeire jellemző és **e** betű jelöli.

- A Szahara sivatag területén, amelyet az *Afrika - népsűrűsége* térképen **A** betűvel jelölünk, a népsűrűség többnyire 100-300 fő/km² között van.
- Az Etióp-magasföld (fennsík) vidéke nagy népsűrűségű terület és a térképen **D** betű jelöli.
- A jelmagyarázaton **c** betűvel jelölt éghajlati típust a Ráktérítő jelenléte határozza meg, ami miatt ezekben a régiókban nagy a népsűrűség. **12 pont**

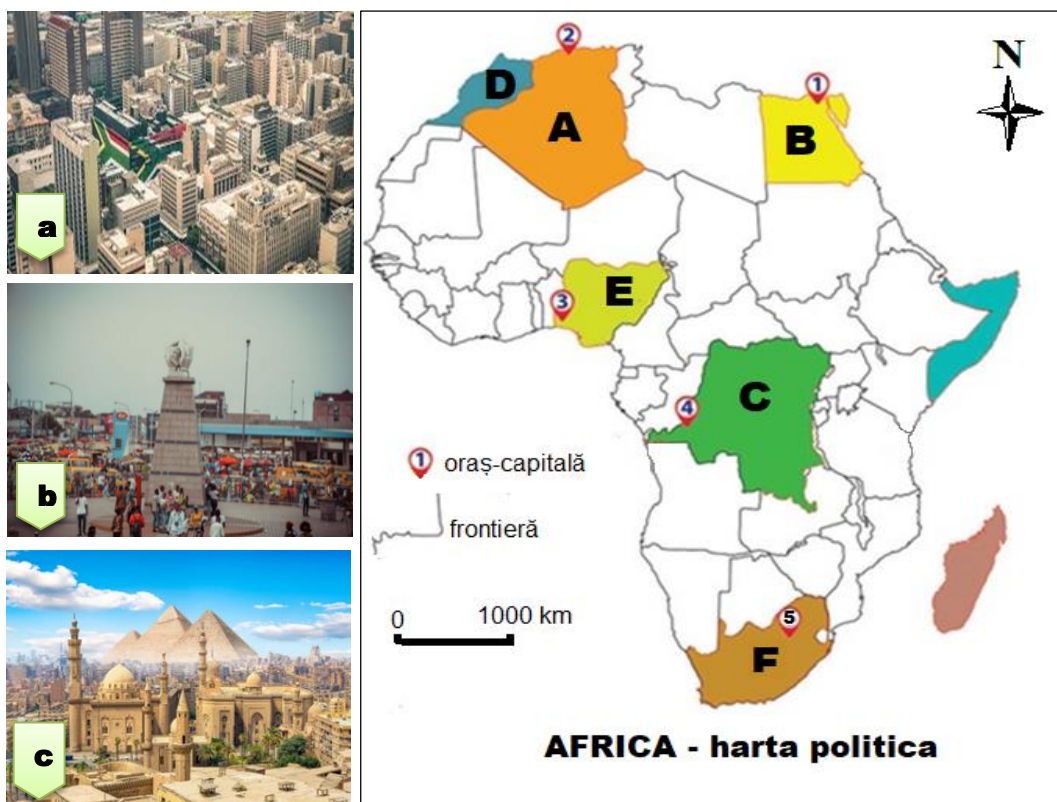
B. Elemezzétek figyelmesen a fenti térképeket (*Afrika - fő éghajlati típusok, Afrika - népsűrűség*).

Nevezzétek meg/írjátok le:

- az *Afrika – népsűrűsége* térképen **A** és **B** betűkkel jelölt térségek mindegyikének éghajlati típusát;
- egy-egy olyan földrajzi tényezőt (az éghajlati tényezőknél kívül), amely magasabb népsűrűségi értékekhez vezetett az *Afrika népsűrűsége* térképen **B** és **C** betűvel jelölt régiók mindegyikére vonatkozóan. **8 pont**

IV. Tétel (14 pont)

Az alábbi térképen afrikai országokat jelölnek az **A-tól F-ig** terjedő betűk, az **1-től 5-ig** terjedő számok fővárosokat, míg az **a, b és c** képek egyes fővárosok részeit mutatják be.



Oraș-capitală - főváros; frontieră - határ

A. Nevezzétek meg/írjátok le:

- a térképen **D** betűvel jelölt állam kormányzási formáját;
- az ország nevét, amelyben a térképen a **2-es** számmal jelölt kikötő található;
- a térképen jelöltek közül annak az országnak a nevét, amelyik területén a pigmeus népcsoport él és a betűt, amely az illető országot jelöli;


8 pont

B. Ismerve, hogy az **a, b** és **c** betűkkel jelölt képek a következő fővárosok, Johannesburg (**a**), Kinshasa (**b**) és Kairó (**c**) aspektusait/részeit mutatják be, **írjátok** a versenylapra a három fővárost ábrázoló képek betűi, a térképen a városokat jelölő számok és a megfelelő államok betűi közötti helyes összefüggéseket a **d-6-G** minta szerint.

6 pont

V. Tétel (26 pont)

Az alábbi képeken Afrika és Ázsia térképei vannak, amelyeket az **A** és **B** betűk jelölnek, illetve az **a**, **b**, **c** és **d** betűkkel jelölt etnikai csoportokhoz tartozó emberek láthatóak.



Treapta câmpiilor – síkságok; treapta dealurilor și podișurilor - dombok és fennsíkok; treapta munților - hegységek

A. Hasonlítsátok össze Afrika és Ázsia kontinensek **A** és **B** betűvel jelölt kartográfiai ábrázolásait/térképeit. **Írjátok le/nevezetek meg:**

1. két különbséget a két kontinens között a főbb domborzati formák eloszlásában;
2. egy tótípust, kialakulása szerint, amely mindkét kontinensen közös és egy-egy példát erre a tótípusra mindkét kontinens esetében;
3. egy-egy példát trópusi sivatagra a két kontinens mindegyikén;
4. egy tenger nevét, amelyik mindkét kontinenst határolja;
5. egy éghajlati típust, amely csak a **B** betűvel jelölt képen látható kontinensre jellemző.

18 pont

B. **Írjátok a versenylapra** az Afrika és Ázsia térképi ábrázolásainak betűi és az adott kontinensek etnikai csoportjaihoz tartozó emberek képét jelölő betűk helyes megfeleltetését a **D - e** minta szerint.

8 pont

*Felicitări, ai terminat testul.
Sunt convins că te-ai strădui să
rezolvi toate cerințele și ne vom
reîntâlni la etapa națională.
Te aștept cu drag!*

