

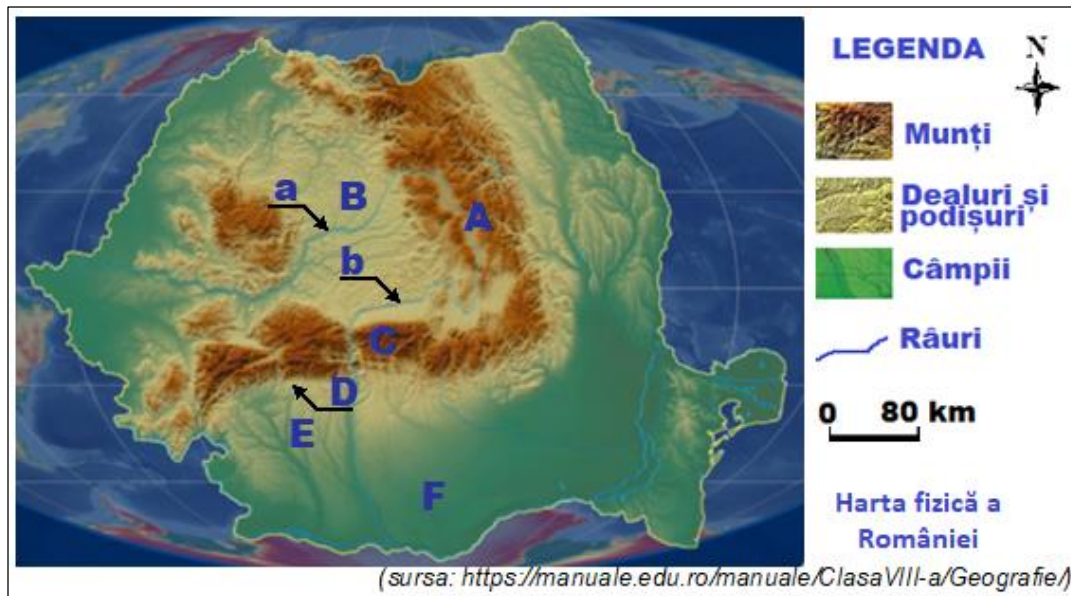
**OLIMPIADA ȘCOLARĂ DE GEOGRAFIE**  
**ETAPA JUDEȚEANĂ/A SECTOARELOR MUNICIPIULUI BUCUREȘTI**  
**17 martie 2024**

**CLASA a VIII-a**

- **Minden tétel kötelező. Hivatalból 10 pont.**
- **Munkaidő 3 óra.**

**I Tétel (20 pont)**

Az alábbi térképen az A-tól F-ig tartó betűk nagytájakat, illetve az a és b betűk folyókat jelölnek.



*munți=hegyek, dealuri și podișuri=dombok és fennsík, câmpii=alföldek, râuri=folyók.*

Írja le a vizsgalpra a helyes válasz betűjelét az alábbi kijelentésekre vonatkozóan:

1. A térképen azt a nagytájakat jelölő betűt, amelyre jellemző a *szeletes földcsuszamlások*:  
a. A                      b. B                      c. D                      d. F
2. A térképen az a betűvel jelölt folyó átszeli ezt a hegyközi medencét:  
a. Bélbori-(Bilbor)    b. Borszéki-(Borsec)    c. Gyergyói-(Giurgeu)    d. Varsági-(Vârșag)
3. A térképen azt a nagytájakat jelölő betűt, ahol megtaláljuk a konglomerátum rétegeken kialakult bizarr sziklakazatokot/kőgombákat, olyanokat mint a *bratócsei Szfinx* vagy a *Pletykáló vénasszonyok* stb.:  
a. A                      b. B                      c. C                      d. D
4. A térképen azt a nagytájakat jelölő betűt, amely felszínének jellemzői a következők: masszív/tömbös jelleg, kevés medence és völgy taglalja és csak egyetlen völgy szeli át teljes egészében (transzverzálisan) a nagytájakat:  
a. A                      b. C                      c. D                      d. E
5. A térképen azt a nagytájakat jelölő betűt, ahol sótömzsökben kialakult tavakat találunk:  
a. C                      b. D                      c. E                      d. F
6. A térképen azt a nagytájakat jelölő betűt, amelyben találjuk az olyan hegylábi medencéket, mint a Horezu- és a Câmpulung-medencék:  
a. B                      b. C                      c. D                      d. E
7. A térképen azt a nagytájakat jelölő betűt, amelynek déli részén áthalad 11°C-os izoterma:  
a. A                      b. C                      c. D                      d. F
8. Ezt a dombságot/hátságot határolja nyugaton, a térképen a b betűvel jelölt folyó:  
a. Cândești-            b. Cotmeana-            c. Kis-Olt menti-            d. Strehaia-
9. Ezt a glaciális eredetű tavat találjuk, a térképen az A betűvel jelölt nagytájakban:  
a. Bukuly(Buhăescu)-    b. Călțun-            c. Gâlcescu-            d. Zănoaga-
10. Ebben a kőzetben alakultak ki, a térképen az F betűvel jelölt nagytájakra jellemző felszínformák:  
a. mészkő            b. homokkő            c. lösz            d. kősó

**20 pont**

## II Tétel (16 pont)

Az alábbi képek romániai nagytájakat/tájegységeket mutatnak be.



(sursa: <https://manuale.edu.ro/manuale/ClasaVIII-a/Geografie/>)

### A. Írja (írjon) le:

1. a Măcin-hegység felszínének/domborzatának három jellemzőjét;
2. két folyót, amely átszeli vagy határolja a Strehăia-hátságot;
3. két éghajlati tényezőt és egy jellegzetes szelet a Moldvai-hátságára vonatkozóan;
4. egy domborzattípust, két tótipust és egy talajtípust a Mehădiai-fennsíkra vonatkozóan;
5. két tényezőt, amely előidézi a Măcin-hegységben mért csekély csapadék mennyiségét;
6. két növényzeti típust a Moldvai-hátságára vonatkozóan.

16 pont

## III Tétel (10 pont)

Hosszú ideig a mellékelt képen látható Negoj-csúcsot (vf. Negoiu) tartották a romániai Kárpátok legmagasabb hegycsúcsának.

### Írja (írjon) le:

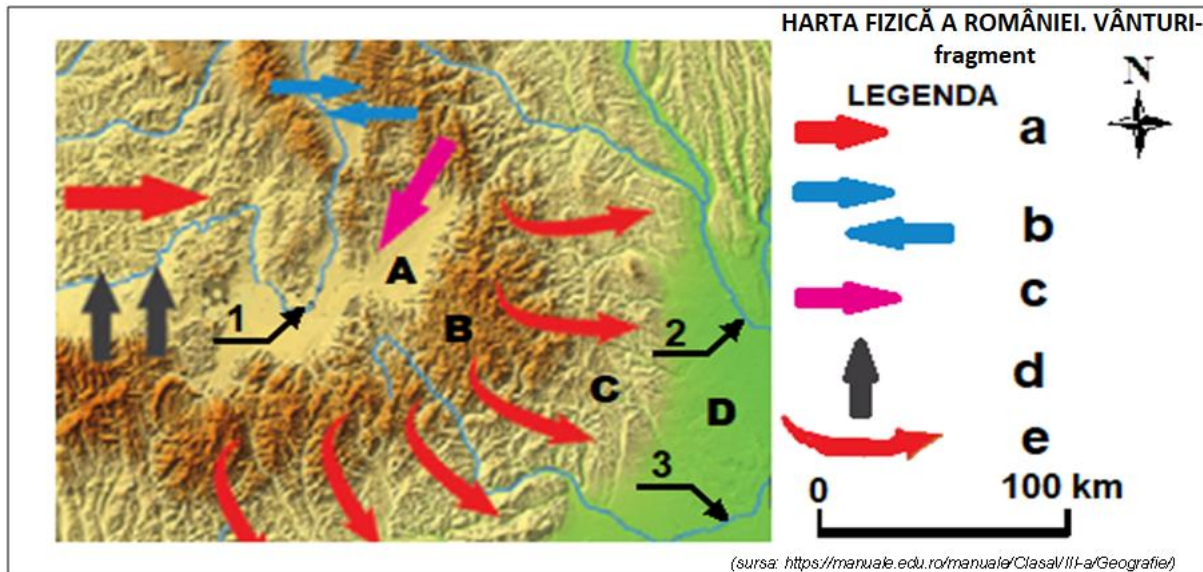
1. a tájegység nevét, amelyben a képen látható hegycsúcs található;
2. a képen látható hegycsúcs tájegységének kialakulását és egy gyakori közettípusát;
3. a Negoj-csúcs (vf. Negoiu) tájegységében a legmagasabb hegycsúcs értékét, illetve felszínének/domborzatának két jellemzőjét;
4. a folyó nevét, amely nyugaton határolja a tájegységet, amelyben a képen látható hegycsúcs található;
5. egy éghajlati- és egy növényzeti típust, amely a képen látható hegycsúcs magassági övezetére jellemző;
6. egy tótipust a Negoj-csúcs (vf. Negoiu) tájegységéből.



10 pont

#### IV Tétel (14 pont)

Az alábbi térképrészleten az **A**, **B**, **C** és **D** betűk tájegységeket, az **1**, **2** és **3** számok folyókat, a jelmagyarázatban pedig az **a**-tól **e**-ig tartó betűk szeleket jelölnek.



Harta fizică a României = România természetföldrajzi térképe. Vânturi = Szelek, fragment = részlet. Legendă = Jelmagyarázat  
Írja (írjon) le:

1. a térképen az **A** és a **D** betűkkel jelölt tájegységek nevét;
2. a térképen jelölt folyók közül, azok nevét amelyek ugyanabba a vízfolyásba ömlenek és ennek nevét;
3. a számokat, amelyek a térképen olyan folyókat jelölnek, amelyek egy alacsony (süllyedő) területet szelnek át;
4. azokat a betűket a jelmagyarázattól, amelyek helyi szeleket jelölnek;
5. a szél nevét, amelyet a jelmagyarázat **a** betűje jelöl;
6. egy éghajlati hatást, amelyet a jelmagyarázat **d** és **e** betűivel jelölt szelei idéznek elő;
7. egy sajátos éghajlati jelenséget, a térképen az **A** betű jelölt tájegységre vonatkozóan.

14 pont

#### V. Tétel (30 pont)


Az alábbi **1**, **2** és **3** számokkal jelölt képeken a hazánk területén áthaladó Duna völgyének jellemzőit figyelhetjük meg. A fényképek a Duna három különböző szakaszán készültek.



1. Dunărea în Cazanele Mari



2. Dunărea la Calafat



3. Dunărea la Măcin

(sursa: <https://manuale.edu.ro/manuale/ClasaVIII-a/Geografie/>)

1. A Duna a Nagy-Kazán-szorosnál

2. A Duna Calafat-nál

3. A Duna Măcin-nél

A. Írja (írjon) le:

1. a Duna szakaszainak nevét és egy-egy felszíni jellemzőjét, az **1**, **2** és **3** képek alapján;
2. annak a képnek a számát, amely a Román-alföld és a Dobrudzsai-hátság közötti szakasz jellemzőit mutatja be és a Duna folyásának irányát ezen a szakaszon;
3. két felszíni különbséget, az **1** és **2** képeken bemutatott dunai szakaszokra vonatkozóan;
4. A Duna egy-egy mellékvizét, az **1**, **2** és **3** képek által bemutatott szakaszok terjedelmén.

22 pont

B. Magyarázza el, hogy miért alakított ki deltatorolatot a Duna, a Fekete-tengerbe való ömlése előtt, bemutatva a kialakító tényezőket illetve ezek felszínalakító munkáit.

8 pont