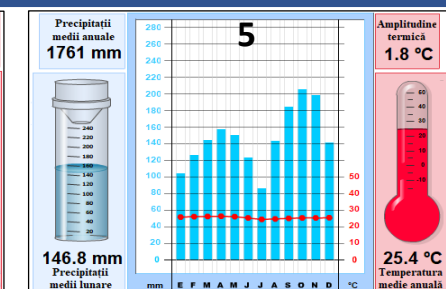
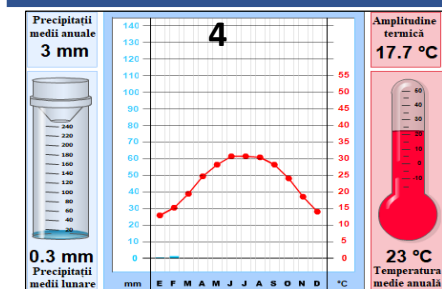



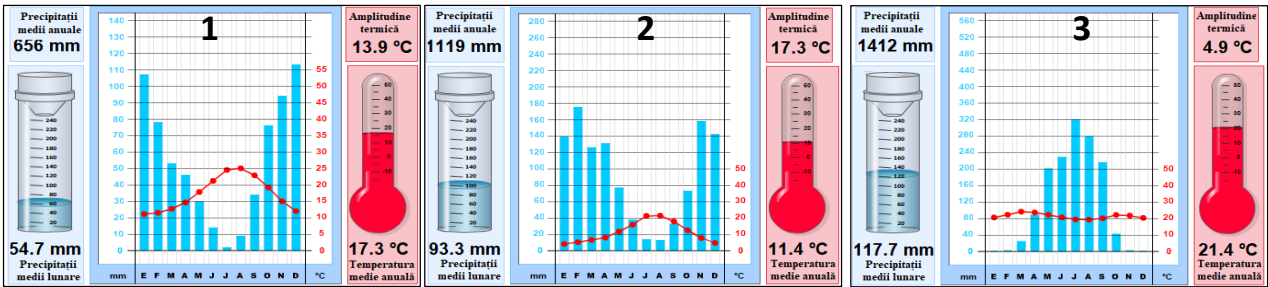


Subiectul al II-lea

(26 puncte)

Urmărind harta, diagramele și imaginile de mai jos, scrieți, pe foaia de concurs, răspunsurile la următoarele cerințe:



1. denumirea tipurilor de medii geografice marcate, pe hartă, cu litere de la **A** la **E**;
2. asocierile corecte între mediile geografice identificate la **pct. 1** și diagramele climatice corespunzătoare acestora, notate cu cifre, de la **1** la **5** (după modelul F-6);
3. explicați distribuția sezonieră a cantității de precipitații din mediul geografic, notat pe hartă cu litera **E**;
4. un factor geoeologic determinant în formarea reliefului specific al mediului geografic, notat pe hartă cu litera **B**;
5. denumirea formațiunii vegetale care însoțește cursul râurilor din mediului geografic, marcat pe hartă cu litera **D**;
6. trei condiții care determină caracterul sempervirescent al vegetației din mediul geografic, marcat pe hartă cu litera **C**;
7. asocierile corecte între peisajele geografice redade prin imaginile, marcate cu litere, de la **a** la **e** și mediile geografice marcate, pe hartă, cu litere de la **A** la **E** (după modelul f-F);
8. Pentru mediul geografic, marcat pe hartă cu litera **D**, precizați:
 - a. un tip de agricultură;
 - b. o consecință asupra învelișului edafic a practicării tipului de agricultură precizat la subpunctul a.

Subiectul al III-lea

(14 puncte)

Citiți, cu atenție, următorul text:

”Tendențele de integrare economică demarate prin Declarația de la Bangkok pot ține cont de factorii și condițiile generale ale unor evoluții regionale. În același timp, dat fiind că aici sunt mai multe puteri care ar dori să dețină întâietatea, puteri de primă mărime, dar și puteri de rangul doi, pot apărea combinații surprinzătoare, precum și tendințe evolutive mai puțin așteptate. Diversitatea este așa de pregnantă, încât și formele de cooperare regională sunt puternic influențate de context, cu tot ce înseamnă el ca problemă economică, ideologică, politică, confesională, socială. Într-un context particular și formele de cooperare sunt particulare.” (Sursa: prelucrare după Paul Dobrescu - Geopolitica, editura comunicare.ro)

Precizați:

1. numele blocului regional la care face referire textul de mai sus;
2. forma de cooperare regională după nivelul de integrare economică din care face parte;
3. anul înființării acestui bloc regional;
4. numele a cinci state membre;
5. numele a două puteri continentale vecine blocului regional, aflate în competiție cu acesta;
6. două aspecte (de natură politică, confesională, economică) care evidențiază diversitatea și contextul în care a evoluat acest bloc regional;
7. pentru blocul regional precizat la **pct. 1** prezentați:
 - a. o asemănare dintre acest bloc regional și Uniunea Europeană din punct de vedere al modului de organizare și al obiectivelor;
 - b. o deosebire dintre acest bloc regional și Uniunea Europeană din punct de vedere al integrării economice.

Subiectul al IV-lea

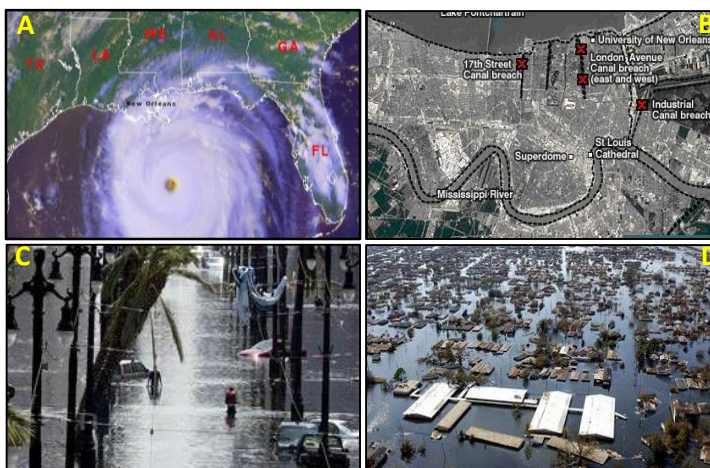
(13 puncte)

Citiți, cu atenție, următorul text și analizați imaginile alăturate:

După ce a traversat sudul Floridei și a câștigat putere peste Golful Mexic (*fig. A*), a atins uscatul în sud-estul Louisianei la 6:10 a.m., ora locală, pe 29 august 2005. În următoarele două zile s-a mutat spre nord, prin delta și cursul inferior al fluviului Mississippi, răspândind vânturi distructive și generând zeci de tornade. Furtuna a devastat zona litorală cauzând mai multe breșe în diguri (*fig. B*) ce au dus la inundații de 5-6 metri, acoperind aproximativ 80 % din oraș (*fig. C și D*). Pierderile de vieți omenești și pagubele materiale sunt catastrofale (1.353 de decese și 275.000 de case avariate sau distruse), iar potrivit American Insurance Services Group, pierderile asigurate sunt estimate la 81,2 miliarde de dolari. (Sursa: prelucrare după U.S. Department of Commerce National Oceanic and Atmospheric Administration - NOAA, National Weather Service - NWS)

Precizați:

1. categoria în care se încadrează și numele hazardului la care face referire textul de mai sus;
2. două condiții necesare producerii hazardului identificat la **pct. 1**;
3. modul de deplasare și manifestare al acestui hazard;
4. denumirea golfului și al peninsulei unde s-a manifestat hazardul identificat la **pct. 1**;
5. denumirile regionale ale acestui hazard climatic în Oceanul Pacific și Oceanul Indian;
6. două hazarduri menționate în text (unul hidrologic și unul antropic) asociate hazardului principal;
7. două consecințe determinate de hazardurile menționate la **pct. 6**.



Subiectul al V-lea

(17 puncte)

Imaginile de mai jos fac trimitere/referire la relațiile ce se stabilesc între componentele mediului înconjurător (elemente, procese, fenomene) ca rezultat al manifestării unor factori geocologici. Pe baza afirmației de mai sus rezolvați următoarele cerințe:



1. Identificați:
 - a) elementele, procesele sau fenomenele mediului, redată în imaginile marcate, cu litere de la **A** la **E**;
 - b) tipurile de relații ce se stabilesc între componentele mediului, din imaginile marcate, cu litere de la **A** la **E**.
2. Precizați un factor de condiționalitate care explică fizionomia așezării din imaginea marcată cu litera **A**.
3. Menționați un efect negativ, pe termen scurt (câțiva ani), vizibil în imaginea marcată pe hartă cu litera **C**.
4. Prezentați o modalitate de valorificare a resursei din imaginea marcată cu litera **C** din perspectiva sustenabilității.
5. Precizați trei factori de condiționalitate, care explică comportamentul sezonier al viețuitoarelor din imaginea marcată cu litera **D**.