

OLIMPIADA ȘCOLARĂ DE GEOGRAFIE
ETAPA JUDEȚEANĂ/A SECTOARELOR MUNICIPIULUI BUCUREȘTI
17 martie 2024

CLASA a X-a

- **Toate subiectele sunt obligatorii. Se acordă 10 puncte din oficiu.**
- **Timpul de lucru efectiv este de 3 ore.**

Subiectul I (20 puncte)

Scrieți, pe foaia de concurs, litera corespunzătoare răspunsului corect pentru fiecare dintre afirmațiile de mai jos:

1. *Villas miserias* sunt cartierele sărace specifice orașelor situate în:
a. Argentina b. Filipine c. Mexic d. Spania
2. Locuințele palafitice (palustre) sunt specifice peisajului rural din peninsula:
a. Iberică b. Indochina c. Yukatan d. Yutlanda
3. Grupul etnic reto-roman trăiește în țara:
a. Andora b. Elveția c. San Marino d. Spania
4. Funcția religioasă este specifică pentru orașul:
a. Astana b. Milet c. Taba d. Qom
5. În statul Myanmar există un conflict etnic între populațiile:
a. karen și kachin b. cecenă și ingușă c. tutsi și hutu d. tamil și singhal
6. Orașul Baltimore face parte din megalopolisul:
a. Australian b. Boswash c. Marilor Lacuri d. Midlands
7. Un teritoriu dependent, insular, administrat de către Țările de Jos, este:
a. Anguilla b. Aruba c. Mayotte d. Montserrat
8. Un oraș cu funcție financiar bancară este:
a. Davos b. Eisenhüttenstadt c. Genova d. Zurich
9. Canalul Panama se desfășoară între orașele:
a. Balboa și Colon b. Balboa și Panama c. Colon și Darien d. Darien și Gamboa
10. Planul orașul Anvers se încadrează în tipul:
a. liniar b. polinuclear c. rectangular d. semicircular

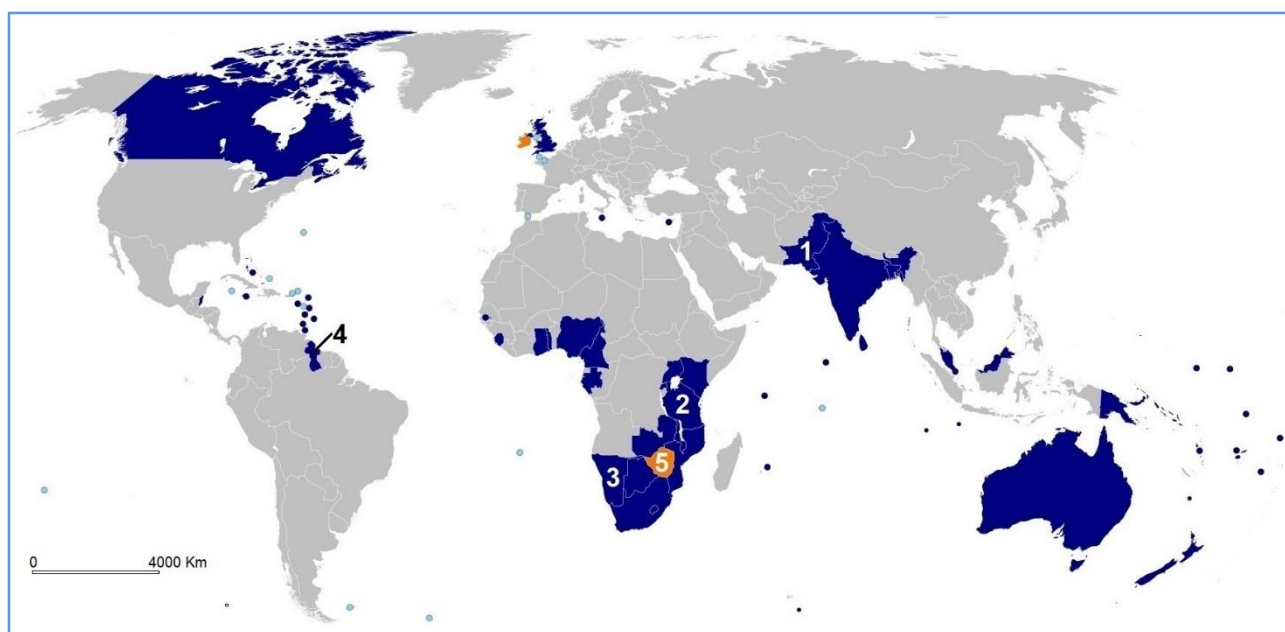
20 puncte

Subiectul al II-lea (15 puncte)

Analizați harta de mai jos, referitoare la gruparea/asociația de state fondată în anul 1931.

Scrieți, pe foia de concurs, răspunsurile la următoarele cerințe:

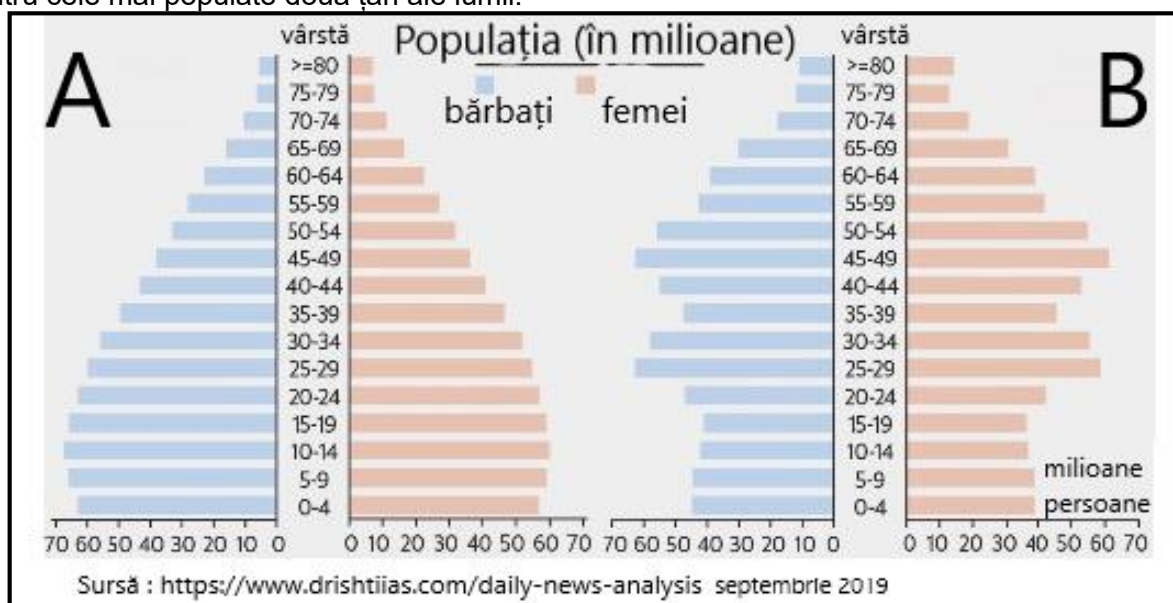
1. denumirea grupării de state la care se face referire;
2. scopul creării acestei grupări de state;
3. denumirea limbii oficiale utilizate de către statele care fac parte din grupare/asociație;
4. numele statelor marcate, pe hartă, cu cifrele **1, 3 și 4**;
5. denumirea unui stat, membru al grupării, situat în Europa Mediteraneană;
6. denumirea unui stat insular, membru al grupării, situat în Oceanul Indian;
7. numele a două state federale din *Lumea Nouă* care sunt monarhii constituționale;
8. denumirea statului suspendat din grupare și marcat, pe hartă, cu cifra **5**;
9. numele statelor asiatice membre ale grupării respective între care există un conflict teritorial;
10. denumirea regiunii disputate de statele asiatice, aflate în conflict, menționate la punctul **9**.



15 puncte

Subiectul al III-lea (26 puncte)

Piramidele grupelor de vârstă ale populației la nivelul anului 2019 surprind structura demografică pentru cele mai populate două țări ale lumii.



Analizați reprezentările grafice și răspundeți la următoarele cerințe:

1. Precizați numele statelor **A** și **B** conform piramidelor grupelor de vârstă ale populației.
2. În anul 2023 ierarhia primelor două state ale lumii ca populație se schimbă. Prezentați două argumente care anticipau această modificare, pornind de la aspectul piramidelor din anul 2019.
3. În unul dintre cele două state s-a introdus, în perioada 1978-2015, politica „Unui singur copil”. Prezentați un argument care a susținut introducerea și un argument care susține renunțarea la această politică demografică.
4. Prezentați doi factori care explică longevitatea mai mare a populației din statul **B**, comparativ cu cea a statului **A**.
5. Pentru statul **A**, precizați:
 - a. trei limbi/dialecte oficiale;
 - b. denumirea populației cu tendințe separatiste din sud-estul țării;
 - c. religia specifică/dominantă;
6. Pentru statul **B**, precizați:
 - a. două cauze care explică diferența de densitate a populației dintre estul și vestul țării;

- b. numele țării insulare situate la 160 de kilometri sud-est, cu care acesta este în conflict, deși au aceeași origine/același popor, precum și o cauză care justifică tensiunile dintre cele două state.
26 puncte

Subiectul al IV-lea (13 puncte)

Citiți textul următor: „De-a lungul timpului au avut loc amestecuri între rase sau între grupurile de populație aparținând aceleiași rase, rezultând populații de amestec, cu particularități noi”.

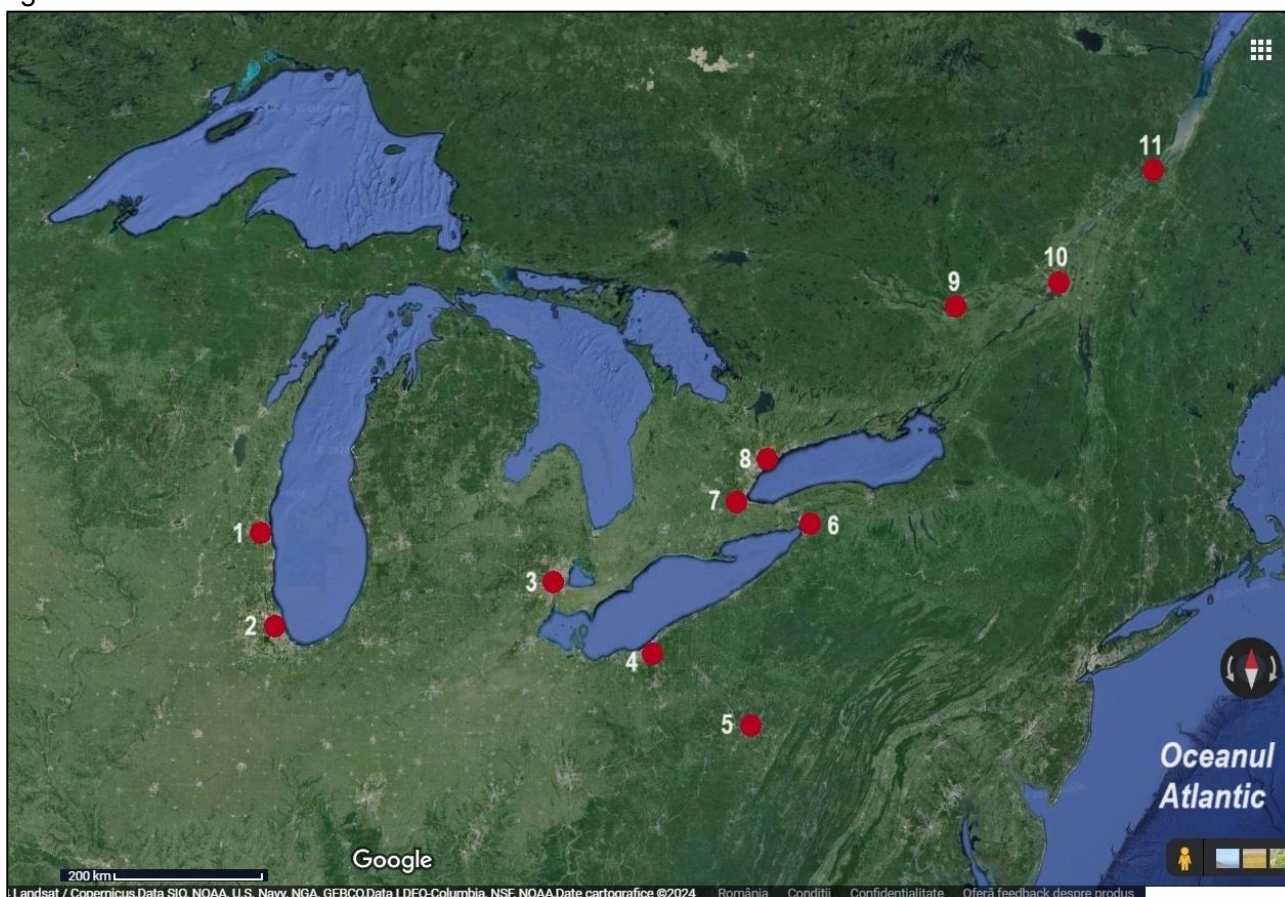
Pornind de la textul de mai sus, precizați:

- trei tipuri umane rezultate din aceste amestecuri;
- pentru fiecare tip uman menționat la punctul **a** precizați grupurile de populație (rasele) amestecate;
- doi factori care au contribuit la amestecul între grupurile de populație;
- două grupuri umane de pe suprafața Terrei care își păstrează caracterele ancestrale.

13 puncte

Subiectul al V-lea (16 puncte)

În reprezentarea de mai jos sunt ilustrate cele mai importante orașe dintr-o formă de concentrare/aglomerare urbană din America de Nord.



Cu privire la forma de concentrare/aglomerare urbană, precizați:

- numele concentrării/aglomerării urbane;
- tipul de concentrare/aglomerare urbană;
- două funcții specifice;
- doi factori care au determinat apariția și dezvoltarea sa;
- două avantaje și două dezavantaje ale locuirii în acest tip de concentrare/aglomerare urbană;
- două zone/axe ale concentrării urbane;
- numele orașelor marcate, pe hartă, cu numerele **2, 3, 8 și 10**.

16 puncte