

**OLIMPIADA ȘCOLARĂ DE GEOGRAFIE**  
**ETAPA JUDEȚEANĂ/A SECTOARELOR MUNICIPIULUI BUCUREȘTI**  
**4 martie 2023**

**X. osztály**

- **Minden tétel kötelező. 10 pont jár hivatalból.**
- **Teljes munkaidő 3 óra.**

**I. Tétel (10 pont)**

Írjátok a vizsgalpra a helyes válasz betűjelét:

1. Szibéria hideg térségében élő népcsoport:  
a. eszkimók                      b. jakutok                      c. lappok                      d. oroszok
2. A sintoizmus nemzeti vallás:  
a. Közép-Ázsiában      b. Távol-Keleten      c. Közel-Keleten      d. Közép-Keleten
3. A jövő városai egy folytonos városrendszert igyekeznek kialakítani, amelynek a neve:  
a. városagglomeráció      b. konurbáció      c. ökümenopolisz      d. interurbáció
4. Az első megnyilvánulási formája az állandó település-termelési tér kapcsolatnak a:  
a. tanya (cătun)      b. bokortanya (crâng)      c. farm      d. falu
5. Philadelphia a következő megalopolisz része:  
a. Boswash      b. Chipitts      c. Nagy-Tavak      d. San-San
6. A „tuk” képezi a jellegzetes falusi tájat:  
a. Közép-Afrikában                      b. Északkelet-Afrikában  
c. Északnyugat-Afrikában                      d. Dél-Afrikában
7. Bhután államformája:  
a. abszolút monarchia                      b. alkotmányos monarchia  
c. parlamentáris köztársaság                      d. elnöki köztársaság
8. A legtöbben beszélnek a következő nyelveket:  
a. arab és mandarin                      b. francia és német  
c. spanyol és urdu                      d. olasz és japán
9. A kurdok kisebbségben élnek a következő államok területén:  
a. Irán, Szíria, Törökország                      b. Irán, Pakisztán, Szíria  
c. Görögország, Libanon, Törökország                      d. India, Irak, Irán
10. Kr. e. a VII. században említik a történelmi dokumentumok:  
a. Athént                      b. Babilont                      c. Jerikót                      d. Urukot

**II. Tétel (24 pont)**

Elemézzétek az alábbi térképet. Írjátok le a versenylapra a válaszokat az alábbi követelményekre.

**Írjátok le:**

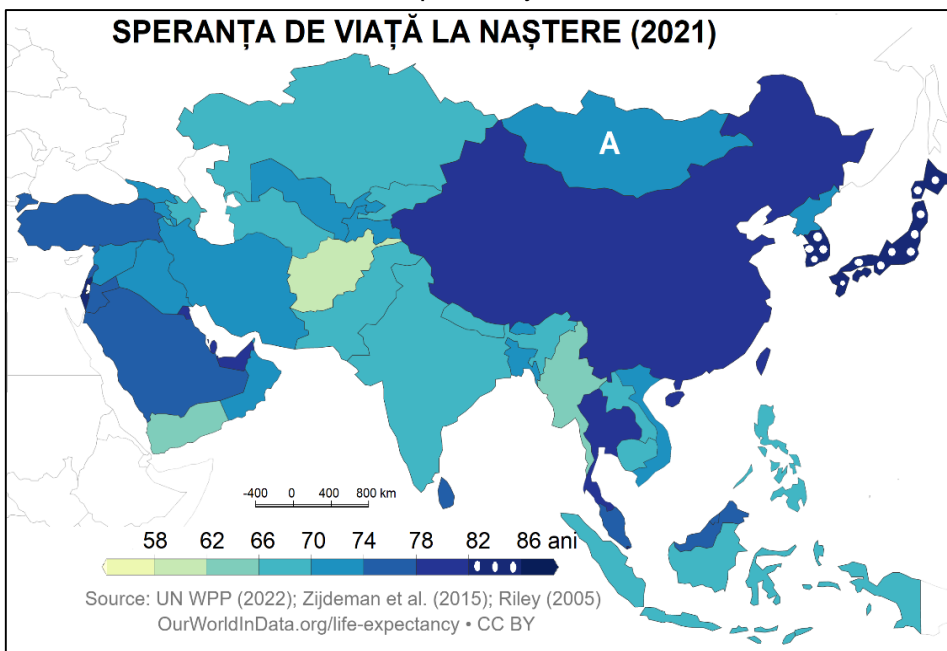
1. a térképen **E**, **F**, **K** és **L** betűkkel jelölt államok fővárosai;
2. annak az államnak a nevét és a betűjét, amelynek a holland a hivatalos nyelve;
3. annak az államnak a nevét és a betűjét, amely függetlenségét 1961-1970 között nyerte;
4. annak az államnak a nevét és a betűjét, amelyben konfliktus van a központi hatalom és azon érdekcsoportok között, amelyek a kábítószerek előállításával és terjesztésével foglalkoznak;
5. azoknak az államoknak a nevét és a betűjét, amelyeknek az exkluzív gazdasági övezete nagyobb mint a szárazföldi területük;



6. annak az államnak a nevét és a betűjét, amely konfliktusban van Nagy-Britanniával a Falkland-szigetekért;
7. azoknak az államoknak a betűjét, amelyek között határt képez a Parana folyó;
8. annak az államnak a betűjét, amely külső konfliktusban van három szomszédjával is és ezeknek a nevét;
9. annak az államnak a nevét és a betűjét, amelyből kiindul a „Kőolaj útja” Európa és az Amerikai Egyesült Államok felé.

### III. Tétel (20 de pont)

A. Elemeztétek az alábbi térképet és írjátok le a válaszokat az alábbi követelményekre.



1. Mutassátok be a születéskor várható élettartam mutató kiszámításának a módját.
2. Írjátok le az értékek térbeli eloszlását az Arab-félszigetre vonatkozóan.
3. Írjátok két tényezőt, amelyek befolyásolják a kapott értékeket az Arab-félszigetre vonatkozóan.

*speranța de viață la naștere* = *születéskor várható élettartam*

B. Olvassátok el a következő szöveget: „A térképen A betűvel jelölt ország területe 1.564.000 km<sup>2</sup> és 2023 január 1-én 3.128.000 lakosa volt, a fővárosának pedig 1.438.880 fő volt a lakossága”. (Forrás: ENSz, Népesedési Divízió)

**Számítsátok ki:**

1. az ország átlagos népsűrűségét;
2. a főváros lakosságának a részarányát az ország összlakosságából.

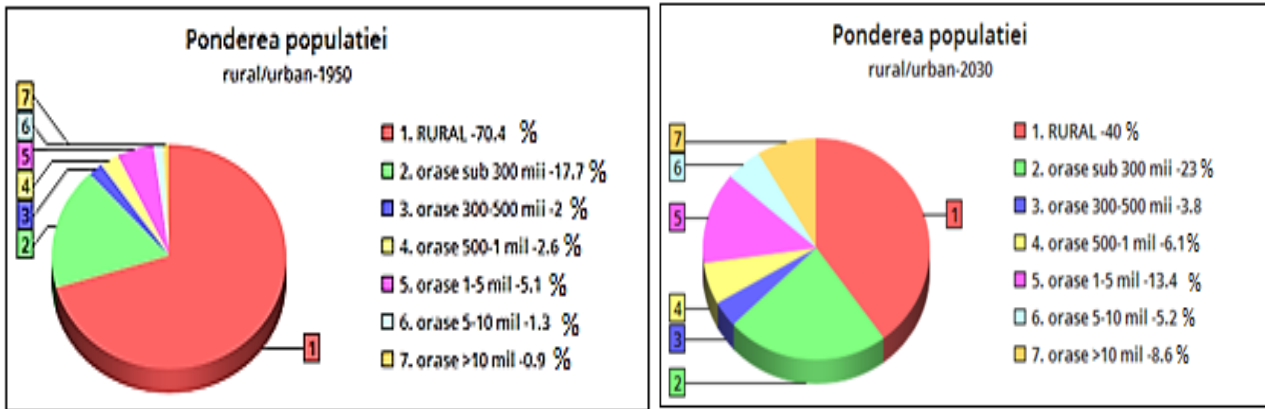
**Írjátok:**

3. két természeti tényezőt, amelyek megmagyarázzák az ország népsűrűségének az értékét;

4. két tényezőt, amelyek megmagyarázzák a főváros lakosságának a részarányát az ország összlakosságából.

**IV. Tétel (24 pont)**

A. Elemeztétek az alábbi grafikonokat és írtátok le a válaszokat az alábbi követelményekre:



*pondereea populației= népesség részaránya, rural-urban=falusi-városi*

1. Nevezzétek meg a jelenséget, amely a grafikonok elemzéséből kikövetkeztethető.
2. Emeljetek ki két jelentősebb változást, amelyek a településszerkezetben fognak bekövetkezni.
3. Nevezzétek meg azokat a kontinenseket, ahol az 1. pontnál azonosított jelenség/folyamat fejlődési ritmusa a legmagasabb fokú.
4. Mutassatok be három megvalósulási utat az 1. pontnál azonosított jelenségre vonatkozóan.

B. Az alábbi képek várostömörülési formákat ábrázolnak:




1. Az a. betűvel jelölt képre vonatkozóan írtátok le:
  - a. a várostömörülési formát, amelyhez tartozik az ábrázolt városi élettér;
  - b. egy jellemvonást és egy előnyt, ami az alaprajz típusából ered.

2. A **b.** betűvel jelölt képre vonatkozóan írjátok le:
- Nevezzétek meg az ábrázolt várostömörülési formát;
  - Azonosítsátok az **1**, **2**, **3** és **4**. számokkal jelölt városokat;
  - Nevezzétek meg egy-egy meghatározó funkcióját **2.** és **4.** számokkal jelölt városoknak;
  - Mutassatok be két tényezőt, amelyek pozitívan befolyásolták ennek a várostömörülési formának a megjelenését és fejlődését.
3. Soroljátok fel négy nagy várostömörülést a **c.** betűvel jelölt képen ábrázolt városi övezetből.

### V. Tétel (12 pont)

Elemézzétek az alábbi térképet és a hozzá társított képeket. Írjátok le a válaszokat az alábbi követelményekre.



1. A **6.** számmal jelölt környezettípusra vonatkozóan mutassátok be:
- a környezettípusnak egy jellemvonását, amely tükröződik a falusi települések sajátosságaiban;
  - ennek a környezettípusnak két mezőgazdasági jellegű hasznosítási módját.
2. Társítsátok a térképen **1-től 5-ig** számokkal jelölt lakókörnyezeteket a nekik megfelelő **a-tól e-ig** betűkkel jelölt képekkel (*a 7-f minta szerint*).
3. Az **a.** betűvel jelölt képre vonatkozóan nevezzétek meg a bemutatott szimbólumoknak megfelelő vallástípust.
4. A **d.** betűvel jelölt képre vonatkozóan említsetek meg egy érvet, amely megmagyarázza a házak színét.
5. Az **e.** betűvel jelölt képre vonatkozóan mutassátok be a házak építési módjának egy okát.